

اصل سوالات آزمون استخدامی

فراگیر دستگاه‌های دهم خرداد ۱۴۰۲

- ✓ اصل سوالات آزمون استخدامی فراگیر برگزار شده در ۱۲ خرداد ۱۴۰۲
- ✓ نسخه رایگان شامل ۱۲۰ سوال به همراه کلید سوالات در انتهای جزوه
- ✓ مجری آزمون جهاد دانشگاهی

لینک های مفید آزمون استخدامی فراگیر

منابع فراگیر	سوالات رایگان فراگیر با پاسخنامه
سوالات فراگیر (گلچین)	سوالات فراگیر (پکیج)
شب آزمون	اخبار آزمون
شبکه های اجتماعی ایران عرضه (فایل های رایگان + تخفیفات هفتگی + اخبار)	
(برای مشاهده هر بخش روی آن بزنید )	

فهرست مطالب

❖ فصل اول: سوالات عمومی دهمین آزمون استخدامی فراگیر دستگاه های اجرایی خرداد ۱۴۰۲ -

صفحه ۴ (۱۲۰ سوال)

معارف اسلامی - ادبیات فارسی - آشنایی با قوانین و مقررات اداری - معلومات عمومی - زبان انگلیسی -
هوش و توانمندی های عمومی - فناوری اطلاعات - معارف اسلامی (ویژه مسلمانان اهل تسنن)

❖ فصل دوم: عکس سوالات عمومی دهمین آزمون استخدامی فراگیر دستگاه های اجرایی خرداد

۱۴۰۲ - صفحه ۲۱

❖ فصل سوم: کلید سوالات عمومی دهمین آزمون استخدامی فراگیر دستگاه های اجرایی خرداد ۱۴۰۲

- صفحه ۳۳



❖ فصل اول: سوالات عمومی دهمین آزمون استخدامی فراگیر دستگاه های اجرایی

خرداد ۱۴۰۲

◀ معارف اسلامی

۱- هدف نهایی آفرینش انسان از دیدگاه آیات قرآن چیست؟

- (۱) پرستش و عبودیت (۲) تدبر و تأمل (۳) خدمت و امداد (۴) مجاهده

۲- رابطه ایمان و معرفت از دیدگاه قرآن چگونه است؟

- (۱) معرفت مبتنی بر ایمان است (۲) ایمان مبتنی بر معرفت است
(۳) معرفت لازمه ایمان است (۴) ایمان لازمه معرفت است

۳- ویژگی اصلی خداوند در تمام ادیان چیست؟

- (۱) یکتا بودن (۲) قداست ذاتی
(۳) مشترک بودن نام خداوند (۴) قادر بودن

۴- برهان علیّ در اثبات وجود خدا از چه مسیری می گذرد؟

- (۱) بی نهایت بودن جهان (۲) علیت خدا
(۳) خالقیت خدا (۴) معلولیت جهان

۵- برهان نظم چگونه برهانی است؟

- (۱) عقلی است با یک مقدمه تجربی (۲) تجربی است با یک مقدمه عقلی
(۳) تجربی است با دو مقدمه عقلی (۴) عقلی است با دو مقدمه تجربی

۶- کدام گزینه در مورد صفات ثبوتی صحیح است؟

- (۱) نقص و کاستی را از خداوند نفی می کند (۲) صفات ذاتی از ذات خدا انتزاع می شود
(۳) کمالی از کمالات خدا را بیان می کند (۴) از ارتباط ذاتی الهی با مخلوقات انتزاع می شود

۷- کدام گزینه از شاخه های عدل الهی نیست؟

- (۱) تکوینی (۲) تشریحی (۳) جزایی (۴) اجتماعی

۸- سوره توحید مربوط به کدام یک از مراتب توحید است؟

- (۱) توحید در خالقیت (۲) توحید در ذات
(۳) توحید در صفات (۴) توحید در عبادت

۹- آیه شریفه «آیا گمان کرده اید شما را بیهوده آفریده ایم و بسوی ما باز نمی گردید» به کدام برهان اثبات معاد اشاره دارد؟

- (۱) حکمت (۲) فطرت (۳) عدالت (۴) قدرت

۱۰- قرآن کریم مرگ جامعه را بر اثر چه عاملی می داند؟

- (۱) ظلم و نافرمانی خداوند
(۲) برپایی قیامت
(۳) ترک امر به معروف
(۴) سیل و زلزله

۱۱- صفات علم و اراده به ترتیب کدام صفت الهی را بیان می کند؟

- (۱) فعلی، فعلی (۲) ذاتی، ذاتی (۳) فعلی، ذاتی (۴) ذاتی، فعلی

۱۲- از منظر قرآن چرا انسان به انکار معاد می پردازد؟

- (۱) نادانی
(۲) باز شدن راه گنهکاری
(۳) ناتوانی
(۴) سست عنصری

۱۳- میانجی بودن فرشتگان در نزول وحی به کدام رسالت آنها باز می گردد؟

- (۱) تدبیری (۲) ایجاد (۳) تکوینی (۴) تشریعی

۱۴- دلیل ترس از مرگ از دیدگاه امام جواد (ع) چیست؟

- (۱) نامعلوم بودن زمان مرگ
(۲) مرگ را انتهای کار فرض کردن
(۳) به دلیل نشناختن مرگ
(۴) ترس از گناهان

۱۵- تحدی در قرآن به چه معناست؟

- (۱) مبارزه طلبی (۲) اعجاز (۳) اصلاح طلبی (۴) هدایت

زبان و ادبیات فارسی

۱۶- اگر جمله «خاکستر خانه او زیاد است» به مفهوم «او مهمان نواز است» باشد، کدام صفت ادبی به کار برده است؟

- (۱) مجاز (۲) کنایه (۳) تشبیه (۴) استعاره

۱۷- با توجه به بیت زیر نقش «سهیل» به ترتیب کدام است؟

- هر شب بگرام به یمین تا تو بی آیی
زیرا که سهیلی و سهیل از یمین آید

- (۱) مسند - مسند (۲) فاعل - مسند

- (۳) مسند الیه - مسند الیه (۴) مسند - فاعل

۱۸- به کار بردن کدام کلمه در نگارش فارسی درست است؟

- (۱) تولی تر (۲) افضل تر (۳) اعلی تر (۴) اعلم تر

۱۹- در کدام گزینه غلط املائی وجود دارد؟

- (۱) سایر علل بر ایشان طار می شود
(۲) نیکبختی به امتثال او منوت باشد
(۳) هرگونه زل از ایشان پدید آمد
(۴) زفتی به جای خویشتن، انصافی بزرگ باشد

۲۰- در بیت زیر «گل» در همه نقش ها به جز به کار رفته است.

ای گل فروش! گل چه فروشی بجای سیم وز گل عزیزتر چه ستایی به سیم گل

(۱) مسند الیه (۲) مضاف الیه (۳) مفعول (۴) متمم

۲۱- کدام کلمه باتوجه به معنی آن صحیح نیست؟

(۱) نسق: شیوه (۲) فحل: دلبر (۳) ضیاع: املاک (۴) نمت: روش

۲۲- نوع «را» در کدام گزینه با گزینه های دیگر متفاوت است؟

(۱) فلک را سقف بشکافیم و طرحی نو دراندازیم

(۲) امیر را دل به حال آن بنده سوخت

(۳) دل می رود ز دستم صاحب‌دلان خدا را

(۴) نیت را معنی، قصد است

۲۳- در بیت زیر ترکیب «مرغ عشق» استعاره از کیست؟

چون صفیری شنوی از مرغ حق ظاهرش را یادگیری چون سبق

(۱) عارف روشن ضمیر (۲) عالم خردمند

(۳) دانشمند ساده اندیش (۴) صوفی ظاهرین

۲۴- نوشتار کدام گزینه صحیح است؟

(۱) کج دار و مریض (۲) کژدار و مریز

(۳) کژدار و مریض (۴) کج دار و مریز

۲۵- در مصرع «لاله و گل زخمی خمیازه اند» منظور از «خمیازه» چیست؟

(۱) بسته شدن (۲) پرپر شدن (۳) شکفته شدن (۴) بویا شدن

۲۶- کدام کتاب از آثار شیخ بهایی نیست؟

(۱) نان و حلو (۲) در اندرون (۳) شیر و شکر (۴) کشکول

۲۷- در کدام بیت آرایه تشبیه وجود ندارد؟

(۱) یک کس به فکر عاقبت کار خویشتن است حیف از شعور مردم این روزگار، حیف!

(۲) حیف و صد حیف که از آب مروت خالی است این همه کاسه زرین که بر این دولاب است

(۳) خواهم سخنی گفت مرغ ای گل رعنا حیف است که با چون تو گلی بوی وفا نیست

(۴) هرگز گلی سراغ شبستان ما نکرد حیف از چراغ عمر که تنها بسوختیم

۲۸- مستفیذ یعنی:

(۱) بهره داد (۲) استفاده کردن (۳) فایده برد (۴) بهره گیرنده

در ۲ سوال زیر، زیر سه قسمت از هر یک از جملات خط کشیده شده است. هر یک از این جملات را به دقت بخوانید و مشخص کنید آیا در یکی از این قسمت ها، خطایی از نظر دستور زبان، به کار گیری مناسب کلمات و اصطلاحات وجود دارد یا خیر. در صورت وجود خطا گزینه ای که دارای خطاست را در برگ پاسخ نامه علامت بزنید.

۲۹- اخبار رفته رفته نشت کرد و همه فهمیدند که در هزینه اجرایی طرح حیف و میل شد.

(۱) نشت کرد (۲) خطایی در جمله وجود ندارد

(۳) رفته رفته (۴) هزینه اجرایی طرح

۳۰- سپاسگذاری از والدین که گاه به آن بی اعتنایی می شود، ضروری است.

(۱) گاه (۲) خطایی در جمله وجود ندارد

(۳) سپاسگذاری (۴) بی اعتنایی می شود

◀ آشنایی با قوانین و مقررات اداری

۳۱- چند روز مرخصی کاری با حقوق و مزایا در سال به کارمندان دستگاه های اجرایی تعلق می گیرد؟

(۱) ۲۰ روز (۲) ۲۵ روز (۳) ۱۵ روز (۴) ۳۰ روز

۳۲- مسئولیتی است که از لحاظ سلسله مراتب به طور مستقیم مسئولیت سرپرستی و ارجاع کار به ارزشیابی شونده را دارد و از وی گزارش دریافت می کند.

(۱) ارزشیابی کننده (۲) مدیر بلا فصل (۳) تایید کننده (۴) گزینه الف و ب

۳۳- کارمندی که به صورت غیر منتظم و بر حسب نوبت به صورت کشیک یا عناوین مشابه آن در هر یک حالت های زمانی عهده دار انجام مسئولیت های محوله باشند

(۱) مشمول پرداخت فوق العاده نوبت کاری می شوند

(۲) با رعایت مقررات مربوط از فوق العاده اضافه کار ساعتی برخوردار خواهد بود

(۳) مشمول پرداخت فوق العاده نوبت کاری می شوند

(۴) گزینه الف و ب

۳۴- کارمندان دستگاه های اجرائی می توانند در طول خدمت خود با موافقت دستگاه ذیربط حداکثر از مرخصی بدون حقوق استفاده نمایند و اگر مرخصی برای ادامه تحصیلات عالی باشد تا قابل افزایش خواهد بود.

(۱) یک سال - یک سال (۲) دو سال - یک سال

(۳) یک سال - دو سال (۴) سه سال - دو سال

۳۵- کدام گزینه غلط است؟

(۱) پرداخت اضافه کاری بدون انجام کار اضافی و جاهت قانونی دارد

(۲) پرداخت اضافه کاری بدون انجام کار اضافی به نظر مدیر سازمان بستگی دارد

۳) پرداخت اضافه کاری تنها در قبال انجام کار اضافی در ساعات اداری مجاز می باشد

۴) پرداخت اضافه کاری بدون انجام کار اضافی در حکم تصرف غیرقانونی وجوه و اموال عمومی است

۳۶- کارمندان می توانند با موافقت دستگاه اجرائی ساعات کار خود را تا حداکثر چند ساعت تقلیل دهند؟

۱) ۸ ساعت ۲) ۴ ساعت ۳) ۱۱ ساعت ۴) ۶ ساعت

۳۷- کدام گزینه صحیح می باشد؟

۱) در به کارگیری و جذب نیروی انسانی جدید و مورد نیاز توسط واحد مجری اولویت با نیروی انسانی جدید است .

۲) کاهش قانونی حقوق و مزایای کارکنان واحد مجری در دوره اجرای تفاهم نامه به عنوان تعهدات دستگاه در تفاهم نامه منظور و توسط دستگاه اجرای تأمین می شود.

۳) هزینه های ناشی از انعقاد تفاهم نامه نباید از مجموع اعتبارات هزینه های که در بودجه مصوب سالانه پیش بینی شده است، تجاوز کند.

۴) موارد الف و ب

۳۸- چه میزان مرخصی با حقوق سالانه کارمندان در دستگاه های اجرائی در طول سال قابل ذخیره کردن است؟

۱) کل مرخصی ها ۲) ۲۰ روز ۳) نصف مرخصی ها ۴) ۱۰ روز

۳۹- حداقل چند ماه پیش از پایان اعتبار گواهینامه متقاضیان تمدید گواهینامه صلاحیت خدمات مشاوره مدیریتی باید

درصد تمدید آن برآیند؟

۱) حداقل ۲ ماه پیش از پایان پایان اعتبار گواهینامه

۲) دو ماه پس از انقضای اعتبار گواهینامه

۳) حداقل یک ماه پیش از پایان اعتبار گواهینامه

۴) یک ماه پس از انقضای اعتبار گواهینامه

۴۰- پیشنهاد بازنگری و بهبود دستور العمل از وظایف است.

۱) رئیس امور مدیریت عملکرد و ارتقای فرهنگ سازمانی

۲) وزارتخانه

۳) معاون نوسازی اداری

۴) کمیته تشخیص صلاحیت

۴۱- در اجرای ماده ۲۳ آیین نامه اجرایی ماده ۲۰ قانون مدیریت خدمات کشوری هر نوع نظر، فکر و راهکاری که بتواند

وضعیت موجود را آسان تر، سریع تر، صحیح تر، ارزان تر، ایمن تر و مطلوب تر کند، نام دارد.

۱) رویکرد ۲) بهره وری ۳) پیشنهاد ۴) آیین نامه

۴۲- تعیین و تایید پاداش ها و سایر هزینه ها از محل ۲۰ درصد منافع حاصل از اجرای پیشنهادهای از وظایف کدام نهاد زیراست؟

(۱) دبیرخانه (۲) کمیته تخصصی (۳) شورا (۴) گروه ارزیابی

۴۳- تامین خدمات عمومی و تخصصی مورد نیاز دستگاه اجرایی با استفاده از ظرفیت بخش خصوصی و تعاونی نام دارد.

(۱) قیمت خدمات (۲) خرید خدمات (۳) خدمت دهنده (۴) تعیین قیمت

۴۴- تعداد واحدهای سازمانی که عهده دار وظایف عمومی در ستاد مرکزی دستگاه هستند نباید از تجاوز کند.

(۱) یک دوم کل واحدها (۲) ۵۰ درصد کل واحدها

(۳) یک سوم کل واحدها (۴) ۲۵ درصد کل واحدها

۴۵- کدام یک از امور زیر حاکمیتی نیست؟

(۱) ایجاد فضای سالم برای رقابت و جلوگیری از انحصار و تضییع حقوق مردم

(۲) آموزش و پرورش عمومی و فنی و حرفه ای

(۳) برقراری عدالت و تامین اجتماعی و باز توزیع درآمد

(۴) فراهم نمودن زمینه ها و مزیت های لازم برای رشد و توسعه کشور و رفع فقر و بیکاری

معلومات عمومی

۴۶- آیه شریفه «وَإِنْ يَكَادُ الَّذِينَ كَفَرُوا لَيُزْلِقُونَكَ بِأَبْصَارِهِمْ لَمَّا سَمِعُوا الذِّكْرَ وَيَقُولُونَ إِنَّهُ لَمَجْنُونٌ وَ مَا هُوَ إِلَّا ذِكْرٌ لِلْعَالَمِينَ»

در کدام سوره قرآن وجود دارد؟

(۱) آل عمران (۲) طه (۳) بقره (۴) قلم

۴۷- ماه های حرام کدامند؟

(۱) محرم - رجب - ذیقعد - ذیحجه (۲) محرم - شوال - رجب - ذیحجه

(۳) محرم - صفر - ذیقعد - ذیحجه (۴) محرم - ذیقعد - ذیحجه - شوال

۴۸- کدام کشور عضو اتحادیه اروپا می باشد؟

(۱) نروژ (۲) سوئیس (۳) انگلیس (۴) رومانی

۴۹- کانال سوئز کدام دریاها را به هم پیوند می دهد؟

(۱) دریای مدیترانه و دریای سرخ (۲) اقیانوس اطلس و اقیانوس کبیر

(۳) دریای سرخ و دریای مدیترانه (۴) دریای سفید و اقیانوس اطلس

۵۰- کدام کارگردان بیشترین سیمرغ کارگردانی جشنواره فجر را دریافت کرده است؟

(۱) مجید مجیدی (۲) داریوش مهرجویی

۵۱- کدام شاعر بر دیگری تقدم زمانی دارد؟

- (۱) فردوسی (۲) نظامی گنجوی (۳) ناصر خسرو (۴) حافظ شیرازی

۵۲- علامت اختصاری سازمان تجارت جهانی چیست؟

- (۱) WHO (۲) FAO (۳) WTO (۴) ILO

۵۳- رییس سازمان امور مالیاتی توسط چه کسی منصوب می شود؟

- (۱) وزیر اقتصاد پس از موافقت رییس جمهور

- (۲) رییس سازمان برنامه و بودجه

- (۳) وزیر اقتصاد پس از موافقت هیات وزیران

- (۴) رییس جمهور

۵۴- پر افتخارترین ورزشکار ایرانی المپیک کیست؟

- (۱) حسین رضازاده (۲) غلامرضا تختی (۳) هادی ساعی (۴) رسول خادم

۵۵- عقیده به ایجاد امپراتوری اقتصادی از راه تصرف سایر ممالک به هر وسیله ای عبارت است از:

- (۱) آنارشپیسم (۲) سکولاریسم (۳) فاشیسم (۴) امپریالیسم

۵۶- به کدام یک از علوم زیر، جایزه نوبل نمی گیرد؟

- (۱) شیمی (۲) پزشکی (۳) ریاضی (۴) زیست شناسی

۵۷- مقاوم ترین ماهیچه در بدن انسان کدام است؟

- (۱) چشم (۲) بازو (۳) قلب (۴) زبان

۵۸- کدام تابلو از آثار استاد فرشچیان است؟

- (۱) پیر خرابات (۲) ابراهیم نبی (۳) مژده بهار (۴) تخت جمشید و اسب ها

۵۹- شهید مهدی باکری در کدام عملیات به شهادت رسید؟

- (۱) بدر (۲) رمضان (۳) بیت المقدس (۴) خیبر

۶۰- به موجب قانون اساسی، کدام مرجع می تواند در حدود وظایف قانونی خود، طرح هایی تهیه و به مجلس شورای اسلامی

پیشنهاد دهد؟

- (۱) شورای عالی امنیت ملی (۲) شورای عالی انقلاب فرهنگی

- (۳) کمیسیون متشکل از چند وزیر (۴) شورای عالی استان ها

زبان انگلیسی

Direction: Choose the word or phrase (a), (b), (c) or (d) that best completes each sentence.

61-This is where you leave your baggage and get your boarding card.

- | | |
|---------------------|------------------|
| 1) duty free | 2) check-in desk |
| 3) departures board | 4) gate |

62- This glass lets us see in front of the car and protects us from the wind and the weather.

- | | | | |
|-----------|------------|---------------|-----------|
| 1) bonnet | 2) mirrors | 3) windscreen | 4) bumper |
|-----------|------------|---------------|-----------|

63 -This is a soft bed cover. It has feathers inside.

- | | | | |
|----------|------------|-----------|-------------|
| 1) duvet | 2) blanket | 3) carpet | 4) wardrobe |
|----------|------------|-----------|-------------|

64-I usually up at 6 a.m. when my alarm clock goes off.

- | | | | |
|----------|-------|--------|---------|
| 1) brush | 2) go | 3) get | 4) wake |
|----------|-------|--------|---------|

65- This drink is made from fruit such as a orange.

- | | | | |
|--------------|---------|----------|---------|
| 1) ice cubes | 2) milk | 3) juice | 4) soda |
|--------------|---------|----------|---------|

66 -The dessert was delicious.

- | | | | |
|---------|---------------|---------------|------------|
| 1) very | 2) absolutely | 3) completely | 4) totally |
|---------|---------------|---------------|------------|

67-If he the penalty, we would have won Saturday's game.

- | | | | |
|---------------|----------------|---------------|-----------|
| 1) had scored | 2) would score | 3) has scored | 4) scored |
|---------------|----------------|---------------|-----------|

68- they'd only known each other for two month, they got engaged.

- | | | | |
|------------|----------------|----------------|------------|
| 1) despite | 2) even though | 3) in spite of | 4) even if |
|------------|----------------|----------------|------------|

69-I've decided that to my boss about the situation.

- | | |
|---------------|-----------------------|
| 1) speak | 2) I'm going to speak |
| 3) I'll speak | 4) I'm having |

70-Why were there no buses yesterday? Maybe it was the snow or they..... been on strike.

- | | |
|---------------|-------------------|
| a) must have | 2) could not have |
| 3) might have | 4) can't have |

Direction: Read the following passage carefully and answer the questions that follow:

Jesse Ownes was one of the world most famous track stars. The newspapers of his day called him "the world's fastest human." This was because he could run faster and jump further than any other man of the time. He was born in 1913. The son of a poor black family with six other brothers and sisters, the first years of his life were very difficult. He was close to death many times during his youth, due to illness.

However, the care of his mother and father helped him to pull through each time. He started running and training in school and while in college at Ohio State University he entered a national competition. During this competition, he set four world records. In 1936, the Olympic Games took place in Germany. This was the Germany of Hitler who did not believe that any race of people was better than the Germans. Jesse won the gold medal for each of the events he entered during the games and became one of the most popular athletes in the world.

71-Hitler

- 1) did not believe that his athletes could win the races
- 2) was in power when the 1936 Olympic Games were held
- 3) resented the people of the German race
- 4) had Jesse train at Ohio State University

72-Jesse Ownes's

- 1) was brought up in poverty
- 2) first competed in the Olympic Games
- 3) started to run Because his mother and father pulled him through
- 4) ran faster than anyone could jump

73. According to the passage.....

- 1) Jesse caused Hitler to worry about his athletes
- 2) Jesse was one of the world's most popular athletes
- 3) Jesse is the only man to have set four world records
- 4) Jesse was the only black athlete to have obtained an Olympic medal

74- What did the newspapers of his day call him?

- 1) The world's most famous track star
- 2) The only man of the time
- 3) The world's fastest human
- 4) All of the above

75- All of the following are true about Jesse Ownes EXCEPT that

- 1) He was born in 1936

- 2) He was the son of a poor black family
- 3) He was born in a big family
- 4) He was close to death many times during his youth

هوش و توانمندی عمومی

۷۶ مورد ۱: تبلیغ تلویزیونی الربخشی کمی دارد. تعداد مارک های تجاری که در تلویزیون تبلیغ می شوند و بینندگان الهی ممکن است آنها را به یاد آورند. در حال کاهش است.

مورد ۲: بینندگان تلویزیون آگهی هایی را که در ابتدا یا انتهای مجموعه ای از آگهی های متوالی پخش می شوند، بهتر از آگهی هایی که در وسط پخش می شوند، به یاد می آورند.

در کدامیک از گزینه های زیر مورد ۲ به موضوع اشاره شده در مورد ۱ کمک می کنند؟

(۱) زمان کلی اختصاص داده شده به مجموعه آگهی های متوالی در تلویزیون در حال کاهش است.

(۲) میانگین امداد آگهی های تلویزیونی در مجموعه آگهی های متوالی در حال افزایش است.

(۳) یک بیننده تلویزیون در حال حاضر کمتر از نصف مارک های تجاری را که در آگهی ها دیده است را به یاد می آورد.

(۴) با میانگین آسمانی که مردم در هر روز صرف تماشای تلویزیون می کنند. در حال کاهش است.

پاسخ احتمالی کاربران ایران عرضه: گزینه ۲

۷۷- کسی که به صورت پیاده، جاده کنار رودخانه را طی می کند. از سمت روبه رو که به تابلوی کنار جاده نزدیک می شود. عدد «۲۱» را می بیند و در پشت آن عدد ۲۳ را. و نتیجه می گیرد که تابلوی بعدی که مسافت روی آن نوشته شده نشان خواهد داد که او در نیمه راه است ولی تابلوی مسافتی که یک مایل بعد نصب شده، از سمت روبه رو عدد «۲۰» و از سمت پشت عدد «۲۴» را نشان می دهد. کدام یک از گزینه های زیر، در صورت صحیح بودن علت اختلاف تشریح شده را توضیح می دهد؟

(۱) اعداد روی تابلوها بر اساس کیلومتر هستند نه مایل

(۲) شخص پیاده رو یک تابلو بین این دو تابلو را ندیده است

(۳) اعداد روی تابلو مسافت بعدی بر عکس نصب شده اند

(۴) اعدادی که از رو به رو دیده می شود، نشان می دهند که چند مایل تا پایان جاده مانده، نه این که چند مایل از ابتدای جاده طی شده است.

پاسخ احتمالی کاربران ایران عرضه: گزینه ۴

۷۸- کدام مورد به تصویر عبارت رو به رو در آینه شبیه تر است؟ SUPERVISOR

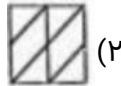

219EVL120B (۲)

120B92EVL1 (۱)

219EVL102B (۴)

219EVL102B (۳)

۷۹- کدام شکل تصویر را کامل می کند؟



۸۰- ضرب المثل «مشت نمونه خروار است» از لحاظ استدلال با کدام یک از ضرب المثل های زیر مشابه است؟

(۱) قطره قطره جمع گردد وانگهی دریا شود (۲) شاهنامه آخرش خوش است

(۳) سالی که نکوست، از بهارش پیداست (۴) با یک گل بهار نمی شود

برای پاسخ به سوالات ۸۱ تا ۸۵ از متن زیر استفاده کنید.

هشت داوطلب در یک آزمون ورودی شرکت کرده اند. در مورد نتایج این افراد که آن ها را با حروف S, T, U, V, W, X, Y, Z نشان می دهیم. اطلاعات زیر در دست است.

(۱) هیچ یک از داوطلبان نمره مساوی با داوطلب دیگر نداشته است.

(۲) فرد S نمره ای بالاتر از فرد Z بدست آورده است.

(۳) فقط نمره یک فرد بین نمره دو داوطلب T و X قرار گرفته است.

(۴) فرد Y درست یک رتبه پایین تر از فرد U است.

(۵) فرد V و Y هر دو رتبه ای بهتر از فرد S بدست آورده اند.

(۶) فرد W بالاترین نمره (رتبه اول) را بدست آورده است.

۸۱- کدام یک از موارد زیر می تواند ترتیب صحیح داوطلبان را از رتبه ۱ تا ۸ (از راست به چپ) مشخص کند؟

(۱) X, Z, T, V, Y, S, U, W (۲) X, S, T, V, Z, Y, U, W

(۳) X, Z, V, T, S, Y, U, W (۴) X, Z, T, S, V, Y, U, W

۸۲- اگر Y رتبه چهارم و X رتبه پنجم را بدست آورده باشند، کدام گزینه قطعاً صحیح است؟

(۱) T در رتبه سوم قرار دارد (۲) Z در رتبه هشتم قرار دارد

(۳) S در رتبه دوم قرار دارد (۴) V در رتبه سوم قرار دارد

۸۳- اگر فرض کنیم فرد V رتبه ای کمتر از فرد T بدست آورده باشد، کدام فرد باید در رتبه هفتم قرار داشته باشد؟

(۱) T (۲) X (۳) S (۴) V

۸۴- در صورتی که رتبه ی چهارم و پنجم به ترتیب به افراد X و U تعلق گرفته باشد، رتبه ی دوم متعلق به کدام فرد می تواند باشد؟

(۱) T (۲) V (۳) S (۴) Y

۸۵- کدام فرد نمی تواند در رتبه آخر یا ماقبل آخر قرار گیرد؟

(۱) T (۲) Z (۳) S (۴) V

در سوالات ۸۶ تا ۸۸ یک سوال و دو گزاره که با او II مشخص گردیده و در آنها اطلاعاتی داده شده است، تشکیل می شود.
(۱) اگر اطلاع (I) به تنهایی برای پاسخگویی به سوال کافی باشد ولی اطلاع (II) به تنهایی کافی نباشد و یا اینکه اطلاع (II) به تنهایی برای پاسخگویی به سوال کافی باشد ولی اطلاع (I) به تنهایی کافی نباشد. گزینه «الف» صحیح است.
(۲) اگر هر یک از دو اطلاع (I) و (II) به تنهایی برای پاسخگویی به سوال کافی نباشد ولی هر دو با هم کافی باشد، گزینه «ب» صحیح است.

(۳) اگر هر یک از دو اطلاع (I) و (I) به تنهایی برای پاسخگویی به سوال کافی باشند. گزینه «ج» صحیح است.

(۴) اگر هر دو اطلاع (I) و (II) با هم نیز برای پاسخگویی به سوال کافی نباشند. گزینه «د» صحیح است.

۸۶- بهزاد ۵۰ عدد تمبر خریداری کرده است. تمبرها در دو قیمت ۲۰ تومانی و ۲۵ تومانی عرضه می شوند. چه تعداد از تمبرها ۲۵ تومانی است؟

(۱) این شخص کلاً ۱۱۰۰ تومان برای تمبرها خرج کرده است.

(II) تعداد تمبرهای ۲۰ تومانی $1\frac{1}{2}$ برابر تعداد تمبرهای ۲۵ تومانی خریداری شده است.

۸۷- سه ظرف با گنجایش های متفاوت (کوچک، متوسط، بزرگ) در اختیار داریم. گنجایش ظرف بزرگ چند برابر گنجایش ظرف متوسط است؟

(۱) اگر ظرف بزرگ را پر از آب کرده و در ظرف متوسط خالی کنیم، به اندازه گنجایش ظرف کوچک آب سرریز می شود.

(II) ظرف بزرگ و ظرف کوچک بر روی هم، دو برابر ظرف متوسط گنجایش دارند

۸۸- آب با چه نرخ با واحد متر مکعب در ساعت، داخل یک استخر مستطیل شکل می ریزد؟

(۱) حجم استخر ۵۰ متر مکعب است

(II) سطح آب با نرخ ۱ متر در ساعت بالا می آید

۸۹- یک فروشنده نوعی کالا را با سود ۵ درصد می فروشد. اگر وی همان نوع از کالا را با ۱۵ درصد سود بفروشد، تعداد فروش این نوع کالا ۲۴ عدد کم می شود، ولی همان سود نصیب فروشنده خواهد شد. تعداد کالای به فروش رفته پس از افزایش درصد سود کدام است؟

(۱) ۸ (۲) ۱۸ (۳) ۳۶ (۴) ۱۲

۹۰- کلمه بعدی دنباله زیر کدام است؟

«سینا - نامه - مهام - امیر -»

(۱) یاری (۲) بیلاق (۳) براق (۴) یرقان

فناوری اطلاعات

۹۱- کدام گزینه در مورد ایمیل صحیح میباشد؟

- (۱) هر فرد، یک آدرس ایمیل منحصر به فرد دارد.
 - (۲) هر ایمیل، صرفاً یک گیرنده منحصر به فرد دارد.
 - (۳) هر ایمیل، برای دسترسی یک نفر کاربر منحصر به فرد ساخته می شود.
 - (۴) هر ایمیل صرفاً یک فرستنده منحصر به فرد دارد.
- ۹۲- برای پاسخگویی به ایمیل دریافت شده از گزینه استفاده می کنیم.

(۱) reply (۲) delete (۳) forward (۴) send

۹۳- برای کپی گرفتن از فرمت نوشتاری یک متن در نرم افزار ورد، علاوه بر ابزار format painter از کدام کلید میانبر می توان استفاده نمود؟

(۱) Alt+C (۲) Ctrl+Alt+C

(۳) Ctrl+C (۴) Ctrl+Shift+C

۹۴- در نرم افزار ورد اگر بخواهیم مثلی را در اطراف یک عکس قرار دهیم نحوه چیدمان عکس باید کدام یک از گزینه های زیر باشد؟

(۱) in front of text (۲) through

(۳) behind text (۴) in line with text

۹۵- تب (سربرگ) mailings برای ارتباط کدام نرم افزار با مجموعه ای از اطلاعات از پیش ثبت شده می باشد؟

(۱) نرم افزار excel (۲) نرم افزار powerpoint

(۳) نرم افزار word (۴) افزار access

۹۶- کار کرد کدام تابع در نرم افزار اکسل اشتباه ذکر شده است؟

(۱) coutif : شمارش مقدار دارای شرایط خاص

(۲) find : پیدا کردن موقعیت یک متن در متن دیگر

(۳) concatenate : جمع کردن دو مقدار عددی

(۴) Rank : رتبه بندی مجموعه ای از اعداد

۹۷- گزینه remove duplicates در اکسل چه کاری را انجام می دهد؟

(۱) حذف کردن اطلاعات تکراری (۲) merge کردن خانه های دارای اطلاعات تکراری

(۳) جابجا کردن اطلاعات تکراری (۴) رنگ کردن خانه های حاوی اطلاعات تکراری

۹۸- کدام یک از اصطلاحات زیر در نرم افزار اکسس با بقیه متفاوت است؟

(۱) report (۲) query (۳) from (۴) table

۹۹- relationships در نرم افزار اکسس، چه کاربردی دارد؟

- (۱) نحوه ارتباط بین جداول یک دیتابیس با دیتابیس دیگر را نشان می دهد
 - (۲) نحوه ارتباط بین جداول یک دیتابیس را نشان می دهند.
 - (۳) نحوه ارتباط بین فرم ها و جداول یک دیتابیس را نشان می دهد
 - (۴) نحوه ارتباط بین فیلدهای متفاوت یک جدول را نشان میدهد
- ۱۰۰- نحوه نمایش slide sorter در نرم افزار پاورپوینت برای کمک در کدام یک از موارد زیر است؟

- (۱) مشخص نمودن ترتیب نمایش اسلایدها
 - (۲) مشخص نمودن نحوه اتصال دو اسلاید به همدیگر
 - (۳) مشخص نمودن نحوه نمایش هر اسلاید
 - (۴) مشخص نمودن نحوه ترتیب نمایش اجزاء یک اسلاید
- ۱۰۱- گزینه reset slide در پاورپوینت چه عملی را انجام میدهد؟

- (۱) اسلاید موجود را خالی از اجزا کرده و به فرمت پیش فرض در می آورد.
- (۲) نمایش سند فعلی پاورپوینت را قطع می کند
- (۳) همه متن ها و اجزا اسلاید را به فرمت اولیه تبدیل می کنند.
- (۴) یک اسلاید جدید ایجاد می کند.

۱۰۲- کدام ویژگی زیر فقط در ویندوز ۱۱ وجود دارد؟

- (۱) پین کردن برنامه ها در منوی استارت
- (۲) ایجاد تب جدید در اکسپلور
- (۳) ماشین حساب علمی
- (۴) وجود نوتیفیکیشن

۱۰۳- در کدام یک از حالت های نمایش فایل در اکسپلورر اندازه ایکن فایلها بزرگتر از دیگر حالت ها می باشد؟

- (۱) tiles
- (۲) small icons
- (۳) details
- (۴) list

۱۰۴- کدام یک از نرم افزارهای زیر یک مرورگر اینترنتی میباشد؟

- (۱) onenote
- (۲) Edge
- (۳) explore
- (۴) webcam

۱۰۵- از کدام یک از نرم افزارهای زیر برای ویرایش عکس استفاده نمی شود؟

- (۱) paint
- (۲) coreldraw
- (۳) photoshop
- (۴) winimage

راهنمایی: سوالات معارف اسلامی ویژه مسلمانان اهل تسنن در برگه ای جداگانه ارائه شده است. مسلمانان اهل تشیع از پاسخ دادن به سوالات این بخش خودداری کنند.

۱- عبارت «انسان موحد کسی است که تلاش می کند فقط خدا را پرستد و از اواطاعت نماید» کدام مرتبه ی توحید را بیان می کند؟

(۱) عملی (۲) ذاتی (۳) نظری (۴) افعالی

۲- همبستگی اجتماعی و نظارت همگانی که دو وظیفه از وظایف «هم زیستی با دیگران» است به ترتیب، از دقت در آیه ی و مفهوم می گردد.

(۱) «واذکروا نعمه الله علیکم» - «ولتکن منکم امه یدعون الی الخیر»

(۲) «واعتصموا بحبل الله جمیعاً» - «و یامرون بالمعروف و ینهون عن المنکر»

(۳) «واعتصموا بحبل الله جمیعاً» - «ولتکن منکم امه یدعون الی الخیر»

(۴) «واذکروا نعمه الله علیکم» - «و یامرون بالمعروف و ینهون عن المنکر»

۳- آیه ی ۹ سوره ی مبارکه اسرا «إِنَّ هَذَا الْقُرْآنَ يَهْدِي لِلَّتِي هِيَ أَقْوَمُ وَيُبَشِّرُ الْمُؤْمِنِينَ الَّذِينَ يَعْمَلُونَ الصَّالِحَاتِ أَنَّ لَهُمْ أَجْرًا كَبِيرًا» در بر گیرنده ی کدام نیاز از نیاز های بنیادین انسان است؟

(۱) نیاز به رشد و بالندگی (۲) نیاز به برنامه ی زندگی

(۳) نیاز به آگاهی از آینده (۴) نیاز به امنیت خاطر و شادکامی

۴- «خلقت محکم و استوار در نظام آفرینش» که حاکی از وجود پدید آور «مدیر و حکیم» است از دقت در کدام آیه مفهوم می گردد؟

(۱) «ما تری فی خلق الرحمن من تفاوت فارجع البصر هل تری من فطور»

(۲) «هو الذی جعل الشمس ضیاء و القمر نورا و قدره منازل لتعلموا عدد السنین»

(۳) «ان فی خلق السماوات و الارض و اختلاف اللیل و النهار لآیات لا ولی الالباب»

(۴) «و تری الجبال تحسبها جامده و هی تمر مر الحساب صنع الله الذی اتقن کل شیء»

۵- گرایشی که عموم تلاش های انسان را تحت تاثیر خود قرار می دهد، میل به است که پاسخ گوی آن است و نشانی بر خداوند می باشد.

(۱) بقا و جاودانگی - رستاخیز - حکمت

(۲) کمالات بی نهایت - رستاخیز - عدل

(۳) بقا و جاودانگی - حکیمانه بودن خلقت - حکمت

(۴) کمالات بی نهایت - عادلانه بودن خلقت - عدل

۶- با داشتن چه صفتی در پیامبران مردم تمام گفته ها و هدایت های آنان را با اطمینان می پذیرند؟

(۱) علم (۲) وحی (۳) عصمت (۴) معجزه

۷- چه چیزی مهم ترین اعتقاد دینی و پایه و اساس تمام دین است؟

(۱) اراده و اختیار انسان (۲) پرستش (۳) عقلانیت (۴) توحید

۸- عبارت «خداوند برای اداره جهان به هیچ موجودی نیازمند نیست.» کدام مرتبه ی توحید را بیان می کند؟

(۱) نظری (۲) افعالی (۳) ذاتی (۴) عملی

۹- با توجه به آیه ی شریفه: «یا ایها الناس کلو مما فی الارض حلالا طيبا و لا تتبعوا خطوات الشیطان» وجوب و حرمت شیطان مفهوم می گردد.

(۱) حلال و طیب خواری - همگامی با

(۲) حلال و طیب خواری - بی توجهی به دشمن

(۳) مسدود نگه داشتن راه ها شیطان - همگامی با

(۴) مسدود نگه داشتن راه های شیطان - بی توجهی به دشمن

۱۰- ایمان به چه چیزی، لازمه ی ایمان به خداوند است؟

(۱) معاد (۲) اختیار (۳) روح (۴) اخلاق

۱۱- با تدبر در آیه شریفه: «یعلمون ظاهرا من الحیاه الدنیا و هم عن الآخره هم غافلون» کدام مفهوم مستفاد نمی گردد؟

(۱) رضایت دادن به زندگی دنیا و قناعت کردن به همین دنیای مادی

(۲) غفلت از نشانه های نظام حکمت آمیز و غایت مند در جهان خلقت

(۳) سطحی نگری منکران آخرت درباره ی زندگی دنیا و دین ظاهر این زندگی

(۴) اندیشیدن درباره ی نظام خلقت و این که جهان خلقت نظام حق است

۱۲- بهره مندی از عزم و اراده ی قوی توکل و اعتماد بر خداوند و معرفت و ایمان به خداوند واگذاری نتایج کارها به باری تعالی است.

(۱) علت - معلول (۲) معلول - علت

(۳) معلول - معلول (۴) علت - علت

۱۳- با توجه به آیه ی شریفه «ان فی خلق السماوات و الارض و اختلاف الیل و النهار لایات» نخستین ویژگی افرادی که موصوف به شوند، است.

(۱) متفکران در نظام آفرینش - به زیور تفکر در آفرینش آراسته شدن

(۲) متفکران در نظام آفرینش - در هر حال به یاد خدا بودن

(۳) اولی الالباب - به زیور تفکر در آفرینش آراسته شدن

(۴) اولی الالباب - در هر حال به یاد خدا بودن

۱۴- قوم کدام پیامبر به او گفتند: «تو و پروردگارت بروید و بجنگید ما این جا می نشینیم؟»

(۱) حضرت لوط (ع) (۲) حضرت سلیمان (ع)

(۳) حضرت موسی (ع) (۴) حضرت ادریس (ع)

۱۵- قرآن کریم، سرنوشت گروهی که راه غفلت از مرگ را پیش گرفته اند و خود را به هر کاری سرگرم می سازند تا آینده ی تلخی را که در انتظار دارند فراموش کنند، چگونه ترسیم می کند؟

- ۱) «قل هل ننبتکم بالآخرین اعمالا الذین ضل سعیهم فی الحیاه الدنیا و هم یحسبون انهم یحسنون صنعا»
- ۲) «ان الذین لایرجون لقاءنا و رضوا بالحیاه الدنیا و اطمانوا بها و الذین هم عن ءایاتنا غافلون...»
- ۳) «یعلمون ظاهرا من الحیاه الدنیا و هم عن الآخره هم غافلون اولم یتفکروا فس انفسهم...»
- ۴) «ما خلق الله السماوات و الارض و ما بینهما الا بالحق و اجل مسمی و ان کثیرا من الناس بقاء ربهم لکافرون...»



معارف اسلامی

۱- هدف نهایی آفرینش انسان از دیدگاه آیات قرآن چیست؟

- (الف) پرستش و عبودیت ✓
(ج) خدمت و امداد
(ب) تدبر و تأمل
(د) مجاهده

۲- رابطه ایمان و معرفت از دیدگاه قرآن چگونه است؟

- (الف) معرفت مبتنی بر ایمان است ✓
(ج) معرفت لازمه ایمان است
(ب) ایمان مبتنی بر معرفت است
(د) ایمان لازم معرفت است

۳- ویژگی اصلی خداوند در تمام ادیان چیست؟

- (الف) یکتا بودن ✓
(ج) مشترک بودن نام خداوند
(ب) قداست ذاتی
(د) قادر بودن

۴- برهان علی در اثبات وجود خدا از چه مسیری می‌گذرد؟

- (الف) بی‌نهایت بودن جهان
(ج) خالقیت خدا ✓
(ب) علیت خدا
(د) معلولیت جهان ✓

۵- برهان نظم چگونه برهانی است؟

- (الف) عقلی است با یک مقدمه تجربی ✓
(ج) تجربی است با دو مقدمه عقلی
(ب) تجربی است با یک مقدمه عقلی
(د) عقلی است با دو مقدمه تجربی

۶- کدام گزینه در مورد صفات ثبوتی صحیح است؟

- (الف) نقص و کاستی را از خداوند نفی می‌کند ✓
(ج) کمالی از کمالات خدا را بیان می‌کند ✓
(ب) صفات ذاتی از ذات خدا انتزاع می‌شود
(د) از ارتباط ذاتی الهی با مخلوقات انتزاع می‌شود

۷- کدام گزینه از شاخه‌های عدل الهی نیست؟

- (الف) تکوینی
(ب) تشریعی ✓
(ج) جزایی ✓
(د) اجتماعی

۸- سوره توحید مربوط به کدام یک از مراتب توحید است؟

- (الف) توحید در خالقیت
(ب) توحید در ذات ✓
(ج) توحید در صفات
(د) توحید در عبادت

۹- آیه شریفه «آیا گمان کرده‌اید شما را بیهوده آفریده‌ایم و بسوی ما باز نمی‌گردید.» به کدام برهان اثبات معاد اشاره دارد؟

- (الف) حکمت ✓
(ج) فطرت
(ب) عدالت
(د) قدرت

۱۰- قرآن کریم مرگ جامعه را بر اثر چه عاملی می‌داند؟

- (الف) ظلم و نافرمانی خداوند ✓
(ج) ترک امر به معروف
(ب) برپایی قیامت
(د) سیل و زلزله

۱۱- صفات علم و اراده به ترتیب کدام صفت الهی را بیان می‌کنند؟

- (الف) فعلی ، فعلی
(ج) فعلی ، ذاتی ✓
(ب) ذاتی ، ذاتی
(د) ذاتی ، فعلی

۱۲- از منظر قرآن چرا انسان به انکار معاد می‌پردازد؟

- (الف) نادانی
(ج) ناتوانی
(ب) یاز شدن راه گنهکاری ✓
(د) سست عنصری

۱۳- میانجی بودن فرشتگان در نزول وحی به کدام رسالت آنها باز می‌گردد؟

- (الف) تدبیری
(ج) تکوینی
(ب) ایجادي
(د) تشریعی

۱۴- دلیل ترس از مرگ از دیدگاه امام جواد (ع) چیست؟

- الف) نامعلوم بودن زمان مرگ
ب) مرگ را انتهای کار فرض کردن
ج) به دلیل شناختن مرگ
د) ترس از گناهان

۱۵- تحدی در قرآن به چه معناست؟

- الف) مبارزه طلبی
ج) اصلاح طلبی
ب) اعجاز
د) هدایت

زبان و ادبیات فارسی

۱۶- اگر جمله «خاکستر خانه او زیاد است» به مفهوم «او مهمان نواز است» باشد، کدام صفت ادبی به کار برده است؟

- الف) مجاز
ج) تشبیه
ب) کنایه
د) استعاره

۱۷- با توجه به بیت زیر نقش «سهیل» به ترتیب کدام است؟

- هر شب بگرایم به یمین تا تو بی آیی زیرا که سهیلی و سهیل از یمین آید
الف) مسند - مسند
ج) مستدالیه - مستدالیه
ب) فاعل - مسند
د) مسند - فاعل

۱۸- به کاربردن کدام کلمه در نگارش فارسی درست است؟

- الف) اولی‌تر
ج) اعلی‌تر
ب) افضل‌تر
د) اعلم‌تر

۱۹- در کدام گزینه غلط املائی وجود دارد؟ ✓

- الف) سایر علل بر ایشان طار می‌شود
ب) نیکبختی به امثال او منوت باشد ✓
ج) هر گونه زلز از ایشان پدید آمد
د) زفتی به جای خویشتن، انصافی بزرگ باشد

۲۰- در بیت زیر «گل» در همه نقش‌ها به جز به کار رفته است.

- ای گل فروش! گل چه فروشی بجای سیم وز گل عزیزتر چه ستانی به سیم گل
الف) مستدالیه
ج) مفعول
ب) مضاف‌الیه
د) متمم

۲۱- کدام کلمه با توجه به معنی آن صحیح نیست؟

- الف) نسق: شیوه
ج) ضیاع: املاک
ب) فحل: دلیر
د) نمت: روش

۲۲- نوع «را» در کدام گزینه با گزینه‌های دیگر متفاوت است؟

- الف) فلک را سقف بشکافیم و طرحی نو دراندازیم
ب) امیر را دل به حال آن بنده سوخت ✓
ج) دل می‌رود ز دستم صاحب‌دلان خدا را ✓
د) نیت را معنی، قصد است ✓

۲۳- در بیت زیر ترکیب «مرغ حق» استعاره از کیست؟

- چون صغیری شنوی از مرغ حق ظاهرش را یادگیری چون سبق
الف) عارف روش‌شیر
ج) دانشمند ساده‌اندیش
ب) عالم خردسند
د) صوفی ظاهر بین

۲۴- نوشتار کدام گزینه صحیح است؟

الف) کج‌دار و مریض

ج) کژدار و مریض

ب) کژدار و مریز

د) کج‌دار و مریز

۲۵- در مصرع «لاله و گل زخمی خمیازه‌اند» منظور از «خمیازه» چیست؟

الف) بسته شدن

ج) شکفته شدن

ب) پرپر شدن

د) بویا شدن

۲۶- کدام کتاب از آثار شیخ بهایی نیست؟

الف) نان و حلوا

ج) شیر و شکر

ب) درونادر

د) کشکول

۲۷- در کدام بیت آرایه تشبیه وجود ندارد؟

الف) یک کس به فکر عاقبت کار خویشتن نیست

ب) حیف و صد حیف که از آب مروت خالی است

ج) خواهم سخنی گفت مرغ ای گل رعنا

د) هرگز گلی سراغ شستان ما نکرد

حیف از شعور مردم این روزگار، حیف

این همه کاسه زرین که بر این دولاب است

حیف است که با چون تو گلی بوی وفا نیست

حیف از چراغ عمر که تنها بسوختیم

۲۸- مستقید یعنی:

الف) بهره‌داد

ج) فایده برد

ب) استفاده کردن

د) بهره‌گیرنده

در ۲ سوال زیر، زیر سه قسمت از هر یک از جملات خط کشیده شده است. هر یک از این جملات را به دقت بخوانید و مشخص کنید آیا در یکی از این قسمت‌ها، خطایی از نظر دستور زبان، به کارگیری مناسب کلمات و اصطلاحات وجود دارد یا خیر. در صورت وجود خطا گزینه‌ای که دارای خطاست را در برگ پاسخ‌نامه علامت بزنید.

۲۹- اخبار رفته رفته نشت کرد و همه فهمیدند که در هزینه اجرای طرح حیف و میل شد.

الف) نشت کرد

ج) رفته رفته

ب) خطایی در جمله وجود ندارد

د) هزینه اجرای طرح

۳۰- سپاسگذاری از والدین که گاه به آن بی‌اعتنایی می‌شود، ضروری است.

الف) گاه

ج) سپاسگذاری

ب) خطایی در جمله وجود ندارد

د) بی‌اعتنایی می‌شود

آشنایی با قوانین و مقررات اداری

۳۱- چند روز مرخصی کاری با حقوق و مزایا در سال به کارمندان دستگاه‌های اجرایی تعلق می‌گیرد؟

الف) ۲۰ روز

ب) ۲۵ روز

ج) ۱۵ روز

د) ۳۰ روز

۳۲- مسئولی است که از لحاظ سلسله مراتب سازمانی به طور مستقیم مسئولیت سرپرستی و ارجاع کار به ارزشیابی شونده را دارد و از وی گزارش دریافت می‌کند.

الف) ارزشیابی کننده

ج) نایب کننده

ب) مدیر بلافصل

د) گزینه الف و ب

۳۳- کارمندی که به صورت غیر منظم و بر حسب نوبت به صورت کشیک یا عناوین مشابه آن در هر یک از حالت زمانی عهده دار انجام مسئولیت‌های محوله باشند

الف) مشمول پرداخت فوق العاده نوبت کاری نیستند

ب) با رعایت مقررات مربوط از فوق العاده اضافه کار ساعتی برخوردار خواهد بود

ج) مشمول پرداخت فوق العاده نوبت کاری می‌شوند

د) گزینه الف و ب

۳۴- کارمندان دستگاه های اجرائی می توانند در طول مدت خدمت خود با موافقت دستگاه ذیربط حداکثر از مرخصی بدون حقوق استفاده نمایند و اگر مرخصی برای ادامه تحصیلات عالی باشد تا قابل افزایش خواهد بود.

(الف) یک سال - یک سال

(ب) دو سال - یک سال

(ج) یک سال - دو سال ✓

(د) سه سال - دو سال

۳۵- کدام گزینه غلط است؟

(الف) پرداخت اضافه کاری بدون انجام کار اضافی و جاهت قانونی ندارد.

(ب) پرداخت اضافه کاری بدون انجام کار اضافی به نظر مدیر سازمان بستگی ندارد. ✓

(ج) پرداخت اضافه کاری تنها در قبال انجام کار اضافی در ساعات اداری مجاز می باشد.

(د) پرداخت اضافه کاری بدون انجام کار اضافی در حکم تصرف غیر قانونی وجوه و اموال عمومی است

۳۶- کارمندان می توانند با موافقت دستگاه اجرائی ساعات کار خود را تا حداکثر چند ساعت تقلیل دهند؟

(الف) ۸ ساعت

(ب) ۴ ساعت

(ج) ۱۱ ساعت

(د) ۶ ساعت ✓

۳۷- کدام گزینه صحیح می باشد؟

(الف) در به کارگیری و جذب نیروی انسانی جدید و مورد نیاز توسط واحد مجری، اولویت با نیروی انسانی جدید است .

(ب) کاهش قانونی حقوق و مزایای کارکنان واحد مجری در دوره اجرای تفاهم نامه، به عنوان تعهدات دستگاه در تفاهم نامه منظور و توسط دستگاه اجرایی تأمین می شود .

(ج) هزینه های ناشی از انعقاد تفاهم نامه نباید از مجموع اعتبارات هزینه های که در بودجه مصوب سالانه پیش بینی شده است، تجاوز کند .

(د) موارد الف و ب

۳۸- چه میزان مرخصی با حقوق سالانه کارمندان در دستگاه های اجرائی در طول سال قابل ذخیره کردن است؟

(الف) کل مرخصی ها

(ب) ۲۰ روز

(ج) نصف مرخصی ها

(د) ۱۰ روز

۳۹- حداقل چند ماه پیش از پایان اعتبار گواهینامه متقاضیان تمدید گواهینامه صلاحیت خدمات مشاوره مدیریتی باید درصدد تمدید آن براءیند؟

(الف) حداقل ۲ ماه پیش از پایان اعتبار گواهینامه

(ج) حداقل ۱ ماه پیش از پایان اعتبار گواهینامه

(ب) دو ماه پس از انقضای اعتبار گواهینامه

(د) یک ماه پس از انقضای اعتبار گواهینامه

۴۰- پیشنهاد بازنگری و بهبود دستورالعمل از وظایف است.

(الف) رئیس امور مدیریت عملکرد و ارتقای فرهنگ سازمانی

(ج) معاون نوسازی اداری

(ب) وزارتخانه

(د) کمیته تشخیص صلاحیت

۴۱- در اجرای ماده ۲۲ آیین نامه اجرایی ماده ۲۰ قانون مدیریت خدمات کشوری هر نوع نظر، فکر و راهکاری که بتواند وضعیت موجود را آسان تر، سریع تر، صحیح تر، ارزان تر، ایمن تر و مطلوب تر کند ، نام دارد.

(الف) رویکرد

(ب) بهره وری

(ج) پیشنهاد

(د) آیین نامه

۴۲- تعیین و تایید پاداش ها و سایر هزینه ها از محل ۲۰ درصد منافع حاصل از اجرای پیشنهادها از وظایف کدام نهاد زیر است؟

(الف) دبیرخانه

(ب) کمیته تخصصی

(ج) شورا

(د) گروه ارزیابی

۴۳- تأمین خدمات عمومی و تخصصی مورد نیاز دستگاه اجرایی با استفاده از ظرفیت بخش خصوصی و تعاونی نام دارد.

(الف) قیمت خدمات

(ب) خرید خدمات

(ج) خدمت دهنده

(د) تعیین قیمت

۴۴- تعداد واحدهای سازمانی که عهده دار وظایف عمومی در ستاد مرکزی دستگاه هستند نباید از تجاوز نماید.

(الف) یک دوم کل واحدها

(ب) ۵۰ درصد کل واحدها

(د) ۲۵ درصد کل واحدها

(ج) یک سوم کل واحدها

۴۵- کدام یک از امور زیر حاکمیتی نیست؟

- (الف) ایجاد فضای سالم برای رقابت و جلوگیری از انحصار و تضییع حقوق مردم.
(ب) آموزش و پرورش عمومی و فنی و حرفه‌ای ✓
(ج) برقراری عدالت و تأمین اجتماعی و باز توزیع درآمد.
(د) فراهم نمودن زمینه‌ها و مزیت‌های لازم برای رشد و توسعه کشور و رفع فقر و بیکاری

معلومات عمومی

۴۶- آیه شریفه «وَإِنْ يَكَادُ الَّذِينَ كَفَرُوا لَيُزْلِقُونَكَ بِأَبْصَارِهِمْ لَمَّا سَمِعُوا الذِّكْرَ وَيَقُولُونَ إِنَّهُ لَمَجْنُونٌ وَمَا هُوَ إِلَّا ذِكْرٌ لِلْعَالَمِينَ» در کدام سوره قرآن وجود دارد؟

- (الف) آل عمران
(ب) طه
(ج) بقره ✓
(د) قلم

۴۷- ماه‌های حرام کدامند؟

- (الف) محرم - رجب - ذی‌قعدة - ذیحجه
(ب) محرم - شوال - رجب - ذیحجه
(ج) محرم - صفر - ذی‌قعدة - ذیحجه ✓
(د) محرم - ذی‌قعدة - ذیحجه - شوال

۴۸- کدام کشور عضو اتحادیه اروپا می‌باشد؟

- (الف) نروژ
(ب) سوئیس
(ج) انگلیس ✓
(د) رومانی

۴۹- کانال سوئز کدام دریاها را به هم پیوند می‌دهد؟

- (الف) دریای مدیترانه و دریای سرخ ✓
(ب) اقیانوس اطلس و اقیانوس کبیر
(ج) دریای سرخ و دریای مدیترانه
(د) دریای سفید و اقیانوس اطلس

۵۰- کدام کارگردان بیشترین سیمرغ کارگردانی جشنواره فجر را دریافت کرده است؟

- (الف) مجید مجیدی
(ب) داریوش مهرجویی
(ج) اصغر فرهادی
(د) ابراهیم حاتمی‌کیا

۵۱- کدام شاعر بر دیگری تقدم زمانی دارد؟

- (الف) فردوسی
(ب) نظامی گنجوی
(ج) ناصر خسرو
(د) حافظ شیرازی

۵۲- علامت اختصاری سازمان تجارت جهانی چیست؟

- (الف) WHO
(ب) FAO
(ج) WTO
(د) ILO

۵۳- رئیس سازمان امور مالیاتی توسط چه کسی منصوب می‌شود؟

- (الف) وزیر اقتصاد پس از موافقت رئیس جمهور
(ب) رئیس سازمان برنامه و بودجه
(ج) وزیر اقتصاد پس از موافقت هیات وزیران
(د) رئیس جمهور

۵۴- پر افتخارترین ورزشکار ایرانی المپیک کیست؟

- (الف) حسین رضازاده
(ب) غلامرضا تختی
(ج) هادی ساعی ✓
(د) رسول خادم

۵۵- عقیده به ایجاد امپراتوری اقتصادی از راه تصرف سایر ممالک به هر وسیله‌ای عبارت است از:

- (الف) آنارشیزم
(ب) سکولاریسم
(ج) فاشیزم
(د) امپریالیسم

- ۵۶- به کدام یک از علوم زیر، جایزه نوبل تعلق نمی گیرد؟
 (الف) شیمی (ب) پزشکی
 (ج) ریاضی (د) زیست شناسی
- ۵۷- مقاوم ترین ماهیچه در بدن انسان کدام است؟
 (الف) چشم (ب) بازو
 (ج) قلب (د) زبان
- ۵۸- کدام تابلو از آثار استاد فرشچیان است؟
 (الف) پیر خرابات (ب) ابراهیم نبی
 (ج) مرده بهار (د) تخت جمشید و اسبها
- ۵۹- شهید مهدی باکری در کدام عملیات به شهادت رسید؟
 (الف) بدر (ب) رمضان
 (ج) بیت المقدس (د) خیبر
- ۶۰- به موجب قانون اساسی، کدام مرجع می تواند در حدود وظایف قانونی خود، طرح هایی تهیه و به مجلس شورای اسلامی پیشنهاد دهد؟
 (الف) شورای عالی امنیت ملی (ب) شورای عالی انقلاب فرهنگی
 (ج) کمیسیون متشکل از چند وزیر (د) شورای عالی استانها ✓

زبان انگلیسی عمومی

Direction: Choose the word or phrase (a), (b), (c) or (d) that best completes each sentence.

- 61- This is where you leave your baggage and get your boarding card.
 a) duty free b) check-in desk c) departures board d) gate
- 62- This glass lets us see in front of the car and protects us from the wind and the weather.
 a) bonnet b) mirrors c) windscreen d) bumper
- 63- This is a soft bed cover. It has feathers inside.
 a) duvet b) blanket c) carpet d) wardrobe
- 64- I usually up at 6 a.m. when my alarm clock goes off.
 a) brush b) go c) get d) wake
- 65- This drink is made from fruit such as oranges.
 a) ice cubes b) milk c) juice d) soda
- 66- The dessert was delicious.
 a) very b) absolutely c) completely d) totally
- 67- If he the penalty, we would have won Saturday's game.
 a) had scored b) would score c) has scored d) scored
- 68- they'd only known each other for two months, they got engaged.
 a) despite b) even though c) in spite of d) even if
- 69- I've decided that to my boss about the situation.
 a) speak b) I'm going to speak c) I'll speak d) I'm having
- 70- Why were there no buses yesterday? Maybe it was the snow or they been on strike.
 a) must have b) could not have c) might have d) can't have

Direction: Read the following passage carefully and answer the questions that follow:

Jesse Ownes was one of the world's most famous track stars. The newspapers of his day called him "the world's fastest human." This was because he could run faster and jump further than any other man of the time. He was born in 1913. The son of a poor black family with six other brothers and sisters, the first years of his life were very difficult. He was close to death many times during his youth, due to illness. However, the care of his mother and father helped him to pull through each time. He started running and training in school and while in college at Ohio State University he entered a national competition. During this competition, he set four

world records. In 1936, the Olympic Games took place in Germany. This was the Germany of Hitler who did not believe that any race of people was better than the Germans. Jesse won the gold medal for each of the events he entered during the games and became one of the most popular athletes in the world.

71- Hitler

- a) did not believe that his athletes could win the races
- b) was in power when the 1936 Olympic Games were held
- c) resented the people of the German race
- d) had Jesse train at Ohio State University

72- Jesse Ownes's

- a) was brought up in poverty
- b) first competed in the Olympic Games
- c) started to run Because his mother and father pulled him through
- d) ran faster than anyone could jump

73- According to the passage,.....

- a) Jesse caused Hitler to worry about his athletes
- b) Jesse was one of the world's most popular athletes
- c) Jesse is the only man to have set four world records
- d) Jesse was the only black athlete to have obtained an Olympic medal

74- What did the newspapers of his day call him?

- a) The world's most famous track star
- b) The only man of the time
- c) The world's fastest human
- d) All of the above

75- All of the following are true about Jesse Ownes EXCEPT that

- a) He was born in 1936
- b) He was the son of a poor black family
- c) He was born in a big family
- d) He was close to death many times during his youth

هوش و توانمندی ذهنی

۷۶- مورد ۱: تبلیغ تلویزیونی اثربخشی کمی دارد. تعداد مارک‌های تجاری که در تلویزیون تبلیغ می‌شوند و بینندگان آگهی ممکن است آن‌ها را به یاد آورند، در حال کاهش است.

مورد ۲: بینندگان تلویزیون آگهی‌هایی را که در ابتدا یا انتهای مجموعه‌ای از آگهی‌های متوالی پخش می‌شوند، بهتر از آگهی‌هایی که در وسط پخش می‌شوند، به یاد می‌آورند.

در کدامیک از گزینه‌های زیر، مورد ۲ به موضوع اشاره شده در مورد ۱ کمک می‌کند؟

(الف) زمان کلی اختصاص داده شده به مجموعه آگهی‌های متوالی در تلویزیون در حال کاهش است.

(ب) میانگین تعداد آگهی‌های تلویزیونی در مجموعه آگهی‌های متوالی در حال افزایش است.

(ج) یک بیننده تلویزیون در حال حاضر کمتر از نصف مارک‌های تجاری را که در آگهی‌ها دیده است را به یاد می‌آورد.

(د) میانگین اسعاتی که مردم در هر روز صرف تماشای تلویزیون می‌کنند، در حال کاهش است.

۷۷- کسی که به صورت پیاده، جاده کنار رودخانه را طی می‌کند، از سمت روبه‌رو که به تابلوی کنار جاده نزدیک می‌شود، عدد «۲۱» را می‌بیند و در پشت آن عدد «۲۳» را، و نتیجه می‌گیرد که تابلوی بعدی که مسافت روی آن نوشته شده،

نشان خواهد داد که او در نیمه راه است. ولی تابلوی مسافتی که یک مایل بعد نصب شده، از سمت روبه‌رو عدد «۲۰» و از سمت پشت عدد «۲۴» را نشان می‌دهد. کدامیک از گزینه‌های زیر، در صورت صحیح بودن، علت اختلاف تشریح شده را توضیح می‌دهد؟

(الف) اعداد روی تابلوها براساس کیلومتر هستند نه مایل

(ب) شخص پیاده‌رو یک تابلو بین این دو تابلو را ندیده است.

(ج) اعداد روی تابلو مسافت بعدی بر عکس نصب شده‌اند.

(د) اعدادی که از روبه‌رو دیده می‌شود، نشان می‌دهند که چند مایل تا پایان جاده مانده، نه این که چند مایل از ابتدای جاده طی شده است.

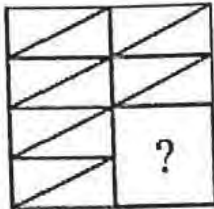
شده است.

۷۸- کدام گزینه به تصویر عبارت روبه‌رو در آینه شبیه‌تر است؟

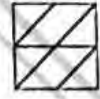
SUPERVISOR

الف) SUPERVISOR (ب) SUPERVISOR (ج) SUPERVISOR (د) SUPERVISOR

۷۹- کدام شکل تصویر را کامل می‌کند؟



(ب)



(الف)



(د)



(ج)

۸۰- ضرب المثل «مشت نمونه خروار است» از لحاظ استدلال با کدام یک از ضرب المثل‌های زیر مشابه است؟

(ب) شاهنامه آخرش خوش است

(الف) قطره قطره جمع گردد، وانگهی دریا شود

(د) با یک گل بهار نمی‌شود

(ج) سالی که نکوست، از بهارش پیداست

برای پاسخ به سوالات (۸۱ تا ۸۵) از متن زیر استفاده کنید.

هشت داوطلب در یک آزمون ورودی شرکت کرده‌اند. در مورد نتایج این افراد که آن‌ها را با حروف S, T, U, V, W, X, Y, Z نشان می‌دهیم. اطلاعات زیر در دست است.

(۱) هیچ‌یک از داوطلبان نمره مساوی با داوطلب دیگر نداشته است.

(۲) فرد S نمره‌ای بالاتر از فرد Z بدست آورده است.

(۳) فقط نمره یک فرد بین نمره دو داوطلب T و X قرار گرفته است.

(۴) فرد Y درست یک رتبه پایین‌تر از فرد U است.

(۵) فرد V و Y هر دو رتبه‌ای بهتر از فرد S بدست آورده‌اند.

(۶) فرد W بالاترین نمره (رتبه اول) را بدست آورده است.

۸۱- کدام یک از موارد زیر می‌تواند ترتیب صحیح داوطلبان را از رتبه‌ی ۱ تا ۸ (از راست به چپ) مشخص کند؟

(الف) X, Z, T, V, Y, S, U, W

(ب) X, S, T, V, Z, Y, U, W

(ج) X, Z, V, T, S, Y, U, W

(د) X, Z, T, S, V, Y, U, W

۸۲- اگر Y رتبه چهارم و X رتبه پنجم را بدست آورده باشند، کدام گزینه قطعاً صحیح است؟

(الف) T در رتبه سوم قرار دارد.

(ب) Z در رتبه هشتم قرار دارد.

(ج) S در رتبه دوم قرار دارد.

(د) V در رتبه سوم قرار دارد.

۸۳- اگر فرض کنیم فرد V رتبه‌ای کمتر از فرد T بدست آورده باشد، کدام فرد باید در رتبه هفتم قرار داشته باشد؟

(الف) T

(ب) X

(ج) S

(د) V

۸۴- در صورتی که رتبه‌های چهارم و پنجم به ترتیب به افراد X و U تعلق گرفته باشد، رتبه دوم متعلق به کدام فرد می‌تواند باشد؟

(الف) T

(ب) V

(ج) S

(د) Y

۸۵- کدام فرد نمی‌تواند در رتبه آخر یا ماقبل آخر قرار گیرد؟

(الف) T

(ب) Z

(ج) S

(د) V

در سوالات ۸۶ تا ۸۸ یک سوال و دو گزاره که با I و II مشخص گردیده و در آن‌ها اطلاعاتی داده شده است، تشکیل می‌شود.

(۱) اگر اطلاع (I) به تنهایی برای پاسخگویی به سوال کافی باشد، ولی اطلاع (II) به تنهایی کافی نباشد و یا اینکه اطلاع (II) به تنهایی برای پاسخگویی به سوال کافی باشد ولی اطلاع (I) به تنهایی کافی نباشد، گزینه «الف» صحیح است.
(۲) اگر هریک از دو اطلاع به تنهایی برای پاسخگویی به سوال کافی نباشد ولی هر دو با هم کافی باشد، گزینه «ب» صحیح است.

(۳) اگر هریک از دو اطلاع (I) و (II) به تنهایی برای پاسخگویی به سوال کافی باشند، گزینه «ج» صحیح است.

(۴) اگر هر دو اطلاع (I) و (II) با هم نیز برای پاسخگویی به سوال کافی نباشند، گزینه «د» صحیح است.

۸۶- بهزاد ۵۰ عدد تمبر خریداری کرده است. تمبرها در دو قیمت ۲۰ تومانی و ۲۵ تومانی عرضه می‌شوند. چه تعداد از تمبرها ۲۵ تومانی است؟

(I) این شخص کلاً ۱۱۰۰ تومان برای تمبرها خرج کرده است.

(II) تعداد تمبرهای ۲۰ تومانی $\frac{1}{4}$ برابر تعداد تمبرهای ۲۵ تومانی خریداری شده است.

۸۷- سه ظرف با گنجایش‌های متفاوت (کوچک، متوسط، بزرگ) در اختیار داریم. گنجایش ظرف بزرگ چند برابر گنجایش ظرف متوسط است؟

(I) اگر ظرف بزرگ را پر از آب کرده و در ظرف متوسط خالی کنیم، به اندازه گنجایش ظرف کوچک آب سرریز می‌شود.

(II) ظرف بزرگ و ظرف کوچک بر روی هم، دو برابر ظرف متوسط گنجایش دارند.

۸۸- آب با چه نرخی با واحد متر مکعب در ساعت، داخل یک استخر مستطیل شکل می‌ریزد؟

(I) حجم استخر ۵۰ متر مکعب است.

(II) سطح آب با نرخ ۱ متر در ساعت بالا می‌آید.

۸۹- یک فروشنده نوعی کالا را با سود ۵ درصد می‌فروشد. اگر وی همان نوع از کالا را با ۱۵ درصد سود بفروشد، تعداد فروش این نوع کالا ۲۴ عدد کم می‌شود، ولی همان سود نصیب فروشنده خواهد شد. تعداد کالای به فروش رفته پس از افزایش درصد سود کدام است؟

(الف) ۸

(ب) ۱۸

(ج) ۳۶

(د) ۱۲

۹۰- کلمه بعدی دنباله زیر کدام است؟

«سینا - نامه - مهمان - امیر -»

(الف) یاری

(ب) بیلاق

(ج) یراق

(د) یرقان

فناوری اطلاعات

۹۱- کدام گزینه در مورد ایمیل صحیح می‌باشد؟

(الف) هر فرد، یک آدرس ایمیل منحصر به فرد دارد.

(ب) هر ایمیل، صرفاً یک گیرنده منحصر به فرد دارد.

(ج) هر ایمیل، برای دسترسی یک نفر کاربر منحصر به فرد ساخته می‌شود.

(د) هر ایمیل صرفاً یک فرستنده منحصر به فرد دارد.

۹۲- برای پاسخگویی به ایمیل دریافت شده، از گزینه استفاده می‌کنیم.

(الف) replay

(ب) delete

(ج) froward

(د) send

۹۳- برای کپی گرفتن از فرمت نوشتاری یک متن در نرم افزار ورد، علاوه بر ابزار format painter از کدام کلید می‌توان استفاده نمود؟

(الف) Alt+C

(ج) Ctrl+C

(ب) Ctrl+Alt+C

(د) Ctrl+Shift+C

۹۴- در نرم افزار ورد، اگر بخواهیم متنی را در اطراف یک عکس قرار دهیم، نحوه چیدمان عکس باید کدام یک از گزینه های زیر باشد؟

- (الف) in front of text
(ب) through
(ج) behind text
(د) in line with text

۹۵- تب (سربرگ) mailings برای ارتباط کدام نرم افزار با مجموعه ای از اطلاعات از پیش ثبت شده می باشد؟

- (الف) نرم افزار excel
(ب) نرم افزار powerpoint
(ج) نرم افزار word
(د) نرم افزار access

۹۶- کارکرد کدام تابع در نرم افزار اکسل، اشتباه ذکر شده است؟

- (الف) countif : شمارش مقدار دارای شرایط خاص
(ب) find : پیدا کردن موقعیت یک متن در متن دیگر
(ج) concatenate : جمع کردن دو مقدار عددی
(د) rank : رتبه بندی مجموعه ای از اعداد

۹۷- گزینه remove duplicates در اکسل چه کاری را انجام می دهد؟

- (الف) حذف کردن اطلاعات تکراری
(ب) merge کردن خانه های دارای اطلاعات تکراری
(ج) جابجا کردن اطلاعات تکراری
(د) رنگ کردن خانه های حاوی اطلاعات تکراری

۹۸- کدام یک از اصطلاحات زیر در نرم افزار اکسس، با بقیه متفاوت است؟

- (الف) report
(ب) query
(ج) form
(د) table

۹۹- relationships در نرم افزار اکسس، چه کاربردی دارد؟

- (الف) نحوه ارتباط بین جداول یک دیتابیس با دیتابیس دیگر را نشان می دهد.
(ب) نحوه ارتباط بین جداول یک دیتابیس را نشان می دهد.
(ج) نحوه ارتباط بین فرم ها و جداول یک دیتابیس را نشان می دهد.
(د) نحوه ارتباط بین فیلدهای متفاوت یک جدول را نشان می دهد.

۱۰۰- نحوه نمایش slide sorter در نرم افزار پاورپوینت، برای کمک در کدام یک از موارد زیر است؟

- (الف) مشخص نمودن ترتیب نمایش اسلایدها
(ب) مشخص نمودن نحوه اتصال دو اسلاید به همدیگر
(ج) مشخص نمودن نحوه نمایش هر اسلاید
(د) مشخص نمودن نحوه ترتیب نمایش اجزاء یک اسلاید

۱۰۱- گزینه reset slide در پاورپوینت چه عملی را انجام می دهد؟

- (الف) اسلاید موجود را خالی از اجزا کرده و به فرمت پیش فرض درمی آورد.
(ب) نمایش سند فعلی پاورپوینت را قطع می کند.
(ج) همه متن ها و اجزا اسلاید را به فرمت اولیه تبدیل می کند.
(د) یک اسلاید جدید ایجاد می کند.

۱۰۲- کدام ویژگی زیر فقط در ویندوز ۱۱ وجود دارد؟

- (الف) پین کردن برنامه ها در منوی استارت
(ج) ماشین حساب علمی

- (ب) ایجاد تب جدید در اکسپلورر
(د) وجود نوتیفیکیشن

۱۰۳- در کدام یک از حالت های نمایش فایل در اکسپلورر، اندازه آیکن فایل ها بزرگتر از دیگر حالت ها می باشد؟

- (الف) tiles
(ب) small icons
(ج) details
(د) list

۱۰۴- کدام یک از نرم افزارهای زیر، یک مرورگر اینترنتی می باشد؟

- (الف) onenote
(ب) edge
(ج) explorer

- (د) webcam

۱۰۵- از کدام یک از نرم افزارهای زیر برای ویرایش عکس استفاده نمی شود؟

- (الف) paint
(ب) coreldraw
(ج) photoshop

- (د) winimage



داوطلب گرامی؛ در صورتی که به سوالات معارف اسلامی مخصوص اهل تسنن (سوالات این برگه) پاسخ می‌دهید، حتماً گزینه «الف» سوال ۲۰۰ را در پاسخنامه بر نموده، و بر اساس شماره‌های ذیل نسبت به تکمیل پاسخنامه اقدام نمایید.

معارف اسلامی

۱- عبارت «اتسان موحد کسی است که تلاش می‌کند فقط خدا را بپرستد و از او اطاعت نماید» کدام مرتبه ی توحید را بیان می‌کند؟

(ب) ذاتی

(الف) عملی

(ج) نظری

(د) افعالی

۲- همبستگی اجتماعی و نظارت همگانی که دو وظیفه از وظایف «هم زیستی با دیگران» است به ترتیب، از دقت در آیه ی و مفهوم می‌گردد.

(الف) «وَاذْكُرُوا نِعْمَةَ اللَّهِ عَلَيْكُمْ» - «وَلْتَكُنْ مِنْكُمْ أُمَّةٌ يَدْعُونَ إِلَى الْخَيْرِ»

(ب) «واعتصموا بحبل الله جميعاً» - «وَيَا مَرْءُونَ بِالْمَعْرُوفِ وَيَنْهَوْنَ عَنِ الْمُنْكَرِ»

(ج) «واعتصموا بحبل الله جميعاً» - «وَلْتَكُنْ مِنْكُمْ أُمَّةٌ يَدْعُونَ إِلَى الْخَيْرِ»

(د) «وَاذْكُرُوا نِعْمَةَ اللَّهِ عَلَيْكُمْ» - «وَيَا مَرْءُونَ بِالْمَعْرُوفِ وَيَنْهَوْنَ عَنِ الْمُنْكَرِ»

۳- آیه ی ۹ سوره ی مبارکه اسرا «إِنَّ هَذَا الْقُرْآنَ يَهْدِي لِلَّتِي هِيَ أَقْوَمُ وَيُبَشِّرُ الْمُؤْمِنِينَ الَّذِينَ يَعْمَلُونَ الصَّالِحَاتِ أَنَّ لَهُمْ أَجْرًا كَبِيرًا» در برگیرنده ی کدام نیاز از نیازهای بنیادین است؟

(الف) نیاز به رشد و بالندگی

(ب) نیاز به برنامه ی زندگی

(ج) نیاز به آگاهی از آینده

(د) نیاز به امنیت خاطر و شادکامی

۴- «خلقت محکم و استوار در نظام آفرینش» که حاکی از وجود پدید آور «مدیر و حکیم» است از دقت در کدام آیه مفهوم می‌گردد؟

(الف) «مَا تَرَى فِي خَلْقِ الرَّحْمَنِ مِنْ تَفَوتٍ فَارْجِعِ الْبَصَرَ هَلْ تَرَى مِنْ فُتُورٍ»

(ب) «هُوَ الَّذِي جَعَلَ الشَّمْسُ ضِيَاءً وَالْقَمَرَ نُورًا وَقَدَرَهُ مَنَازِلَ لِتَعْلَمُوا عَدَدَ السِّنِينَ»

(ج) «إِنَّ فِي خَلْقِ السَّمَاوَاتِ وَالْأَرْضِ وَاخْتِلَافِ اللَّيْلِ وَالنَّهَارِ لَآيَاتٍ لِأُولَى الْأَلْبَابِ»

(د) «وَتَرَى الْجِبَالَ تَحْسِبُهَا جَمَادًا وَهِيَ ثَمَرٌ مِمَّنْ سَحَابٌ صَنَعَ اللَّهُ الَّذِي اتَّقِنَ كُلَّ شَيْءٍ»

۵- گرایشی که عموم تلاش‌های انسان را تحت تاثیر خود قرار می‌دهد، میل به است که پاسخ گوی آن است و نشانی بر خداوند می باشد.

(الف) بقا و جاودانگی - رستاخیر - حکمت

(ب) کمالات بی نهایت - رستاخیر - عدل

(ج) بقا و جاودانگی - حکیمانه بودن خلقت - حکمت

(د) کمالات بی نهایت - عادلانه بودن خلقت - عدل

۶- با داشتن چه صفتی در پیامبران مردم تمام گفته‌ها و هدایت‌های آنان را با اطمینان می‌پذیرند؟

(ب) وحی

(الف) علم

(د) معجزه

(ج) عصمت

۷- چه چیزی مهم ترین اعتقاد دینی و پایه و اساس تمام دین است؟

(ب) پرستش

(الف) اراده و اختیار انسان

(د) توحید

(ج) عقلانیت

۸- عبارت «خداوند برای اداره جهان به هیچ موجودی نیازمند نیست.» کدام مرتبه توحید را بیان می‌کند؟

الف) نظری

ب) افعالی

ج) ذاتی

د) عملی

۹- با توجه به آیه ی شریفه: «یا ایها الناس کلو مما فی الارض حلالاً طیباً و لا تتبعوا خطوات الشیطان» وجوب و حرمت شیطان مفهوم می‌گردد.

الف) حلال و طیب خواری - همگامی با

ب) حلال و طیب خواری - بی توجهی به دشمن

ج) مسدود نگه داشتن راههای شیطان - همگامی با

د) مسدود نگه داشتن راههای شیطان - بی توجهی به دشمن

۱۰- ایمان به چه چیزی، لازمه ی ایمان به خداست؟

الف) معاد

ب) اختیار

ج) روح

د) اخلاق

۱۱- با تدبیر در آیه شریفه: «یعلمون ظاهراً من الحیاه الدنیا و هم عن الآخره هم غافلون» کدام مفهوم مستفاد نمی‌گردد؟

الف) رضایت دادن به زندگی دنیا و قناعت کردن به همین دنیای مادی

ب) غفلت از نشانه‌های نظام حکمت آمیز و غایت مند در جهان خلقت

ج) سطحی نگری منکران آخرت درباره ی زندگی دنیا و دین ظاهر این زندگی

د) اندیشیدن درباره ی نظام خلقت و این که جهان خلقت نظام حق است

۱۲- بهره‌مندی از عزم و اراده ی قوی توکل و اعتماد بر خداوند و معرفت و ایمان به خداوند و اگذاری نتایج کارها به باری تعالی است.

الف) علت - معلول

ب) معلول - علت

ج) معلول - معلول

د) علت - علت

۱۳- با توجه به آیه ی شریفه «ان فی خلق السموات و الارض و اختلاف اللیل و النهار لآیات» نخستین ویژگی افرادی که موصوف به شوند، است.

الف) متفکران در نظام آفرینش - به زیور تفکر در آفرینش آراسته شدن

ب) متفکران در نظام آفرینش - در هر حال به یاد خدا بودن

ج) اولی الالباب - به زیور تفکر در آفرینش آراسته شدن

د) اولی الالباب - در هر حال به یاد خدا بودن

۱۴- قوم کدام پیامبر به او گفتند: «تو و پروردگارت بروید و بجنگید ما این جا می‌نشینیم»؟

الف) حضرت لوط (ع)

ب) حضرت سلیمان (ع)

ج) حضرت موسی (ع)

د) حضرت ادریس (ع)

۱۵- قرآن کریم، سرنوشت گروهی که راه غفلت از مرگ را پیش گرفته اند و خود را به هر کاری سرگرم می‌سازند تا آینده ی تلخی را که در انتظار دارند فراموش کنند، چگونه ترسیم می‌کند؟

الف) «قل هل ننبئکم بالآخرین اعمالاً الذین ضلّ سعیهم فی الحیاه الدنیا و هم یحسبون انهم یحسنون صنأً...»

ب) «ان الذین لایرجون لقاءنا و رضوا بالحیاه الدنیا و اطمأنوا بها و الذین هم عن آياتنا غافلون...»

ج) «یعلمون ظاهراً من الحیاه الدنیا و هم عن الآخره هم غافلون اولم یتفکروا فی انفسهم...»

د) «ما خلق الله السموات و الارض و ما بینهما الا بالحق و اجل مسمى و ان کثیراً من الناس یلقاء ربهم لکافرون...»

سوال	پاسخ	سوال	پاسخ	سوال	پاسخ	سوال	پاسخ	سوال	پاسخ	سوال	پاسخ
۱	۱	۲۴	۴	۴۷	۱	۷۰	۳	۹۳	۲	۱۰	۱
۲	۲	۲۵	۳	۴۸	۴	۷۱	۲	۹۴	۲	۱۱	۴
۳	۱	۲۶	۲	۴۹	۱	۷۲	۱	۹۵	۳	۱۲	۲
۴	۴	۲۷	۱	۵۰	۱	۷۳	۲	۹۶	۳	۱۳	۳
۵	۱	۲۸	۴	۵۱	۱	۷۴	۳	۹۷	۱	۱۴	۳
۶	۳	۲۹	۱	۵۲	۳	۷۵	۱	۹۸	۱	۱۵	۴
۷	۴	۳۰	۳	۵۳	۳	۷۶	۲	۹۹	۱		
۸	۲	۳۱	۴	۵۴	۳	۷۷	۴	۱۰۰	۳		
۹	۱	۳۲	۴	۵۵	۴	۷۸	۳	۱۰۱	۲		
۱۰	۱	۳۳	۴	۵۶	۳	۷۹	۴	۱۰۲	۱		
۱۱	۲	۳۴	۴	۵۷	۴	۸۰	۳	۱۰۳	۲		
۱۲	۲	۳۵	۳	۵۸	۲	۸۱	۴	۱۰۴	۴		
۱۳	۴	۳۶	۳	۵۹	۱	۸۲	۲	۱۰۵	۴		
۱۴	۳	۳۷	۳	۶۰	۴	۸۳	۲	اهل تسنن			
۱۵	۱	۳۸	۳	۶۱	۲	۸۴	۱	۱	۱		
۱۶	۲	۳۹	۱	۶۲	۳	۸۵	۴	۲	۲		
۱۷	۴	۴۰	۴	۶۳	۳	۸۶	۳	۳	۲		
۱۸	۱	۴۱	۴۳	۶۴	۴	۸۷	۲	۴	۴		
۱۹	۲	۴۲	۳	۶۵	۳	۸۸	۲	۵	۱		
۲۰	۱	۴۳	۲	۶۶	۱	۸۹	۴	۶	۳		
۲۱	۴	۴۴	۴	۶۷	۱	۹۰	۳	۷	۴		
۲۲	۱	۴۵	۲	۶۸	۲	۹۱	۴	۸	۴		
۲۳	۲	۴۶	۴	۶۹	۲	۹۲	۱	۹	۲		